

Théorie de l'Information – Feuille de TD 6

20/11/2023

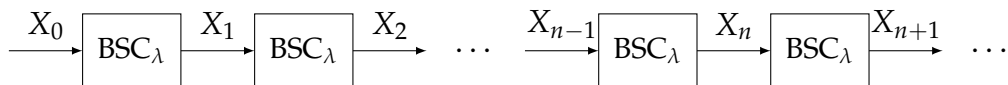
Le corrigé de certains exercices sera disponible à l'adresse suivante :

<https://lvz1.fr/teaching/2023-24/ti.html>

(★) exercice fondamental (★★) pour s'entraîner (★★★) pour aller plus loin  sur machine

Exercice 1. (★) Concaténation infinie de canaux.

On considère une concaténation infinie de canaux binaires symétriques de même paramètre $\lambda \in]0, 1[$. On note $X_0 = X$ et X_n la sortie du n -ème canal.



Question 1.– Rappeler la matrice de transition P du canal binaire symétrique BSC_λ ainsi que sa capacité.

Question 2.– Calculer P^n pour tout $n \geq 0$.

Question 3.– Peut-on modéliser la concaténation de n canaux binaires symétriques comme un seul canal binaire symétrique ? Si oui, en donner le paramètre λ_n .

Question 4.– Que vaut la limite de la capacité du canal concaténé, lorsque $n \rightarrow \infty$? Interpréter.

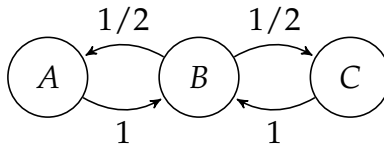
Question 5.– Soit $X = (X_0, \dots, X_n, \dots)$ le processus stochastique associé aux entrées/sorties des canaux. Le processus X est-il markovien ? Si oui, est-il homogène ?

Question 6.– Sous quelle condition sur X_0 le processus X est-il stationnaire ?

Question 7.– Dans le cas où X est stationnaire, calculer le taux d'entropie du processus.

Exercice 2. (★) Marche aléatoire sur le graphe chaîne.

On considère une marche aléatoire sur le graphe suivant :



Les arêtes sortantes d'un sommet $V \in \{A, B, C\}$ sont étiquetées par la probabilité de transition de V vers le sommet cible. Par exemple, la probabilité de B vers A est $1/2$.

On note X_n la position (sommet A, B , ou C) à l'instant n , et on considère le processus stochastique $X = (X_n)_{n \in \mathbb{N}}$.

Question 1.– Le processus X est-il sans mémoire ? Est-il markovien ? Est-il homogène ? Justifier rapidement.

Question 2.– Donner la matrice de transition du processus X .

Question 3.– Sous quelle condition le processus X est-il stationnaire ?

Question 4.– Dans le cas où X est stationnaire, déterminer son taux d'entropie.

Question 5.– Dans le cas où X_0 est déterministe égale à A , calculer la loi de X_{2n} et la loi de X_{2n+1} .

Exercice 3. (★★) Modèle de diffusion d'Ehrenfest.

On considère un ensemble de m boules, numérotées de 1 à m , placées de manière arbitraire dans deux urnes A et B . À chaque pas de temps $n \geq 1$, on choisit aléatoirement et uniformément une des boules et on la change d'urne. On représente par X_n le nombre de boules à l'instant $n \geq 0$. On note $X = (X_0, \dots, X_n)$ le processus stochastique ainsi créé.

Question 1.– Quel est l'ensemble \mathcal{X} des valeurs possiblement prises par X_n ?

Question 2.– Démontrer que X est un processus markovien homogène. On donnera également sa matrice de transition.

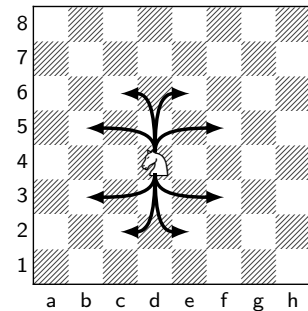
Question 3.– Déterminer une loi invariante de X .

Exercice 4. (☆☆) Déplacement du cavalier.

Dans cet exercice, on pourra s'aider d'un logiciel de calcul formel pour effectuer les opérations matricielles demandées.

L'exercice a pour but d'analyser le processus stochastique issu du déplacement d'un cavalier sur un échiquier.

Aux échecs, le cavalier se déplace suivant un « L » : s'il se trouve sur une case donnée, sa future case se situera deux cases plus loin suivant une direction (horizontale ou verticale, les deux sens étant possibles) et une case plus loin suivant l'autre direction. Dans la figure ci-contre, on voit tous les déplacements possibles d'un cavalier situé sur la case d4.



Pour simplifier l'étude, on suppose maintenant que l'échiquier est de taille (3×3) . À l'instant initial $n = 0$, le cavalier est situé sur l'une des cases du bord. À chaque pas de temps, le cavalier se déplace sur une nouvelle case, en choisissant la nouvelle case de manière uniforme parmi toutes les cases sur lesquelles son déplacement en « L » l'autorise à aller.

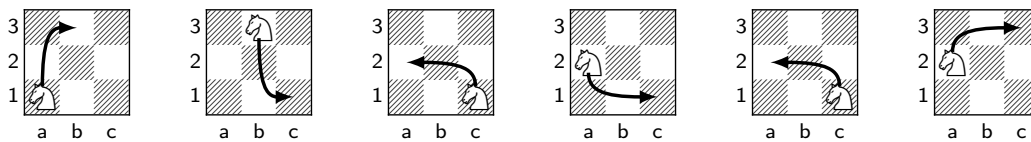


FIGURE 1 – Illustration d'une suite de déplacements du cavalier sur un échiquier de taille (3×3) .

Question 1.– Si le cavalier commence par l'une des cases du bord $(a1, a2, a3, b1, b3, c1, c2, c3)$, toutes les cases de l'échiquier (3×3) lui sont-elles accessibles (après un nombre de déplacements indéfini)?

Dorénavant, on décrit les cases de l'échiquier de la manière suivante :

6	5	4
7		3
0	1	2

Question 2.– Décrire le déplacement du cavalier en termes d'opérations dans le groupe additif $(\mathbb{Z}/8\mathbb{Z}, +)$.

Sous ce formalisme, on note X_n la variable décrivant la position du cavalier à l'étape n , pour $n \geq 0$. Ainsi, X_n est à valeurs dans $\mathbb{Z}/8\mathbb{Z}$. On note enfin $X = (X_n)_{n \geq 0}$ le processus stochastique associé.

Question 3.– Le processus stochastique X est-il markovien? Est-il homogène?

Question 4.– Écrire une matrice de transition pour le processus X , c'est-à-dire une matrice M de taille (8×8) telle que si $p = (p_1, \dots, p_8)^\top$ est la distribution de probabilité de X_n , alors Mp est la distribution de probabilité de X_{n+1} .

Question 5.– Sous quelle condition le processus X est-il stationnaire? Dans ce cas, calculer le taux d'entropie du processus.

On définit maintenant une matrice J de taille (8×8) comme :

$$J := \begin{pmatrix} 0 & 1 & 0 & 0 & 0 & 0 & 0 & 0 \\ 0 & 0 & 1 & 0 & 0 & 0 & 0 & 0 \\ 0 & 0 & 0 & 1 & 0 & 0 & 0 & 0 \\ 0 & 0 & 0 & 0 & 1 & 0 & 0 & 0 \\ 0 & 0 & 0 & 0 & 0 & 1 & 0 & 0 \\ 0 & 0 & 0 & 0 & 0 & 0 & 1 & 0 \\ 0 & 0 & 0 & 0 & 0 & 0 & 0 & 1 \\ 1 & 0 & 0 & 0 & 0 & 0 & 0 & 0 \end{pmatrix}.$$

Question 6.– Calculer J^i pour $i = 2, \dots, 7$, et vérifier que J^8 est égale à la matrice identité I . En déduire une écriture de M en fonction de J .

Question 7.– Démontrer que le polynôme minimal (polynôme unitaire annulateur de plus petit degré) de M est $P(X) = X^5 - \frac{3}{2}X^3 + \frac{1}{2}X$. Pour cela, on pourra calculer les puissances successives de M en fonction de J .

Question 8.– En déduire les valeurs propres de M , puis la forme de M^n pour $n \geq 0$.

Question 9.– En déduire $\lim_{n \rightarrow \infty} p(X_{2n} = i)$ et $\lim_{n \rightarrow \infty} p(X_{2n+1} = i)$ pour tout $i \in \mathbb{Z}/8\mathbb{Z}$. Commenter.